




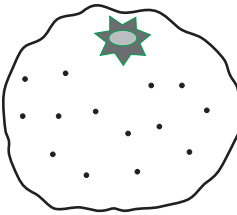


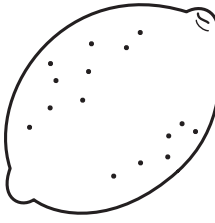


うえ した
上か下か

みぎ ひだり
右か左か

なんばんめ
何番目か

かんが
考えましょう。

 いちご	 メロン	 ぶどう
 りんご	 すいか	 みかん
 もも	 バナナ	 レモン

- ① すいかの ^{うえ}上は です。
すいかの ^{した}下は です。
- ② か ^{みぎ}きの右は です。
か ^{ひだり}きの左は です。
- ③ ^{みぎ}右から 1 ^{ばんめ}番目で
^{うえ}上から 2 ^{ばんめ}番目は です。
- ④ ^{ひだり}左から 2 ^{ばんめ}番目で
^{うえ}上から 3 ^{ばんめ}番目は です。
- ⑤ ^{ひだり}左から 1 ^{ばんめ}番目で
^{した}下から 1 ^{ばんめ}番目は です。