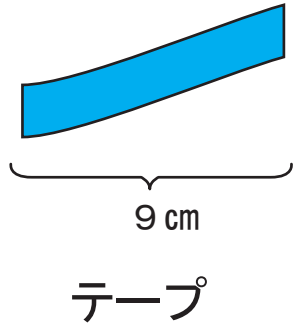



の 5 ばいの ながさは cm ですか。

$$\text{ cm} \times \text{ ばい} = \text{ cm}$$



の 8 ばいの ながさは cm ですか。

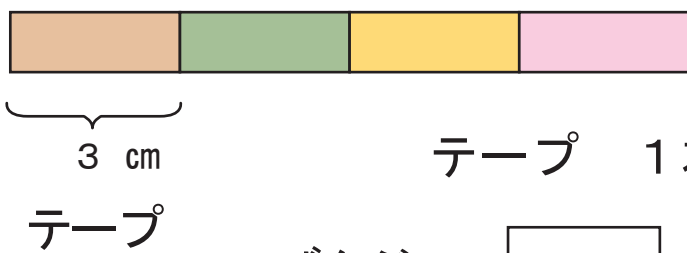
$$\text{ cm} \times \text{ ばい} = \text{ cm}$$



ながさ 7 cm の テープがあります。

このテープの 9 ばいの ながさは、

$$\text{ cm} \times \text{ ばい} = \text{ cm}$$



テープを 4 本 つなぎます。

テープ 1 本の ながさは cm です。

ぜんぶで、 $\text{ cm} \times \text{ ほん} = \text{ cm}$



せんの 長さは 2 cm の ばい です。

せんぜんぶのながさは、 $\text{ cm} \times \text{ ほん} = \text{ cm}$